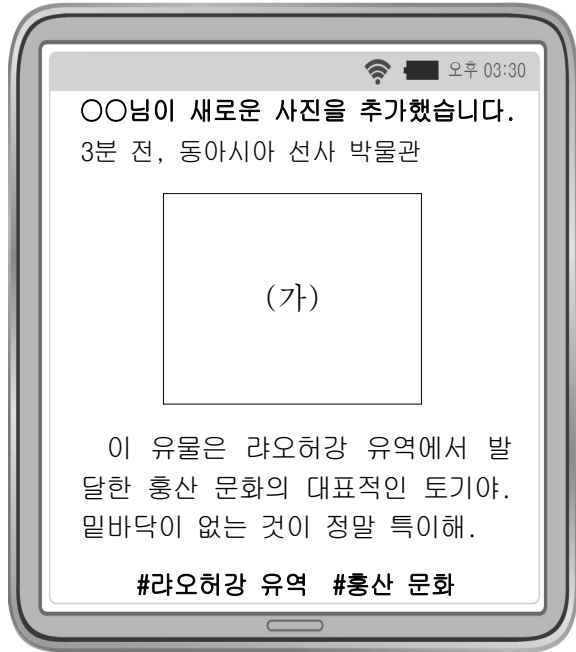


제 4 교시

# 사회탐구 영역 (동아시아사)

성명		수험번호					3				제 [    ] 선택
----	--	------	--	--	--	--	---	--	--	--	-------------

1. (가)에 들어갈 유물로 적절한 것은?



2. (가) 인물이 활동한 시기에 볼 수 있는 모습으로 가장 적절한 것은?

**<해상왕 (가)의 유적지>**

**적산 법화원**  
(가) 이/가 세운 대규모 사찰로, 당시 중국에 거주하던 본국 사람들을 보호하고 결속시키는 역할을 하였다.

**청해진 유적**  
(가) 이/가 설치한 청해진은 군사 기지이자 당시 한반도와 중국, 일본 열도를 연결하는 중요한 무역 거점이었다.

- ① 선종을 창시하는 달마
- ② 천연론을 발간하는 엔푸
- ③ 쇼토쿠 태자의 스승이 된 혜자
- ④ 견당선을 타고 바다를 건너는 엔닌
- ⑤ 구법을 위해 인도로 출발하는 현장

3. (가) 국가에 대한 설명으로 옳은 것은?

**동아시아사 신문**

**몽골에서 (가)의 막새기와 발견되다!**

▲ 출토된 막새기와

몽골 울지트섬 하르가나트 성터에서 (가)의 막새기와가 출토되었다. 막새기와에는 “하늘의 아들 선우, 하늘과 함께 그 영광이 끝이 없으니 영원할지어다.”라는 명문이 기록되어 있다.

(가) 은/는 목욕 선우 때 전성기를 맞이하였으나, 이후 선우 자리를 둘러싼 분쟁이 발생하여 남북으로 분열되었다.

- ① 낙랑군을 축출하였다.
- ② 골품제를 시행하였다.
- ③ 안남 도호부를 설치하였다.
- ④ 맹안·모극제를 실시하였다.
- ⑤ 좌현왕과 우현왕 등을 두었다.

4. (가) 황제에 대한 설명으로 옳은 것은? [3점]

재미있는 동아시아사 이야기

**정화의 함대는 얼마나 큰 규모였을까?**

(가)의 명령으로 파견된 정화의 1차 항해에는 62척의 선단에 군사 2만 7천여 명이 동원되었으며, 가장 큰 배인 보선의 길이는 133m 정도였다는 기록이 남아있다. 길이가 약 30m인 산타마리아호 등 3척의 선박으로 대서양을 횡단한 콜럼버스의 선단과 비교하면 거대한 규모였다.

콜럼버스의 산타마리아호와 정화의 보선

- ① 남송을 멸망시켰다.
- ② 사고전서를 편찬하였다.
- ③ 삼번의 난을 진압하였다.
- ④ 백등산 전투에서 패배하였다.
- ⑤ 난징에서 베이징으로 천도하였다.

5. (가) 황제에 대한 설명으로 옳은 것은?


〔가〕은/는 마음속에 원대한 지략을 가지고 사방(四方)을 개척할 뜻을 두어 남쪽으로는 백월(百越)을 주살하고 북쪽으로는 강력한 흉노를 토벌했으며, 서쪽으로는 대완(大宛)을 정벌했을 뿐만 아니라 동쪽으로는 고조선을 멸망시켰다.

- ① 장건을 서역에 파견하였다.
- ② 다이호 율령을 반포하였다.
- ③ 준왕을 몰아내고 집권하였다.
- ④ 항우와의 전쟁에서 승리하였다.
- ⑤ 5대 10국의 분열을 수습하였다.

6. (가) 왕조의 대외 관계에 대한 설명으로 옳은 것은? [3점]

**동아시아사 산책** 2021년 여름호

**기획 특집** 일본에서 찾을 수 있는 백제의 흔적



규슈에는 백제식으로 축성된 오노조[大野城]의 유적이 남아 있다. 이 성은 왜(倭)가 백강 전투에서 신라와 〔가〕의 연합군에 의해 패배한 이후 축조하였는데, 백제 유민들이 건설을 주도하였다. 규슈에는 오노조 이외에도 기이조[基肄城] 등 백제식 성의 흔적이 남아있다.

**오노조 유적**

- ① 호라즘을 정복하였다.
- ② 야마타이국의 조공을 받았다.
- ③ 토번에 화번공주를 파견하였다.
- ④ 거란(요)과 전연의 맹약을 체결하였다.
- ⑤ 왜구의 근거지인 쓰시마섬을 정벌하였다.

7. (가) 제국에 대한 설명으로 옳은 것은?

〔가〕의 쿠빌라이가 보낸 군대를 격퇴하라!

신이여! 우리 일본을 위해 한 번 더 태풍을 보내 주소서!



- ① 별무반을 편성하였다.
- ② 팔기제를 운영하였다.
- ③ 천계령을 시행하였다.
- ④ 전 왕조를 공격하였다.
- ⑤ 금의 공격으로 멸망하였다.

8. (가) 인물에 대한 설명으로 옳은 것은?

저는 남송의 〔가〕와/과는 다른 방식으로 『중용』을 해석할 수도 있다고 생각합니다.

성리학을 집대성한 〔가〕의 해석에 반하는 당신은 성리학을 어지럽히는 적이오!




- ① 아담 살과 교류하였다.
- ② 사서집주를 편찬하였다.
- ③ 백운동 서원을 건립하였다.
- ④ 사서오경왜훈을 저술하였다.
- ⑤ 심즉리와 지행합일을 강조하였다.

9. (가) 전쟁이 동아시아에 끼친 영향으로 옳은 것은? [3점]


▣ 그림으로 살펴 본 〔가〕의 전개 과정

**부산진순절도**




부산진을 공격하는 일본군

**평양성 탈환도**



평양성을 탈환하는 조·명 연합군

**정왜기공도병**



노량에서 일본군을 격퇴하는 조선 수군

- ① 조선에서 삼포 왜란이 일어났다.
- ② 명에서 토목보의 변이 발생하였다.
- ③ 명에서 장거정이 개혁을 추진하였다.
- ④ 만주 지역에서 아구다가 금을 건국하였다.
- ⑤ 일본에서 도자기 제조 기술이 발달하였다.

10. 다음 문서가 작성된 시기를 연표에서 옳게 고른 것은?

[3점]

러시아가 독일, 프랑스와 함께 일본으로 하여금 랴오둥반도를 반환하도록 권고하였으니, 먼저 러시아 조정에 감사의 표시를 하도록 하라. 만약 일본이 랴오둥반도에 대한 삼국의 반환 권고를 완강하게 거절하고 무력을 행사하려 한다면, 체결된 강화 조약을 그대로 처리하도록 하라.

- 히경징에게 보낸 어지 -

	(가)	(나)	(다)	(라)	(마)	
갑신정변	갑오개혁 시작	중화민국 수립	워싱턴 회의 시작	만주 사변	중·일 전쟁 발발	

- ① (가)      ② (나)      ③ (다)      ④ (라)      ⑤ (마)




11. (가) 황제가 재위하던 시기의 동아시아 상황으로 옳은 것은?

[가] 은/는 조정 신료를 불러 모아 조서를 내려 북방의 언어(선비어)를 끊고 한어(漢語)를 따르도록 하였다. 나이 서른 이상은 습성이 이미 오래되어 바꾸는 것이 불가하더라도, 서른 이하로 현재 조정에 있는 자는 말을 예전 그대로 쓰는 것을 허락하지 않았고, 여기는 사람은 벼슬을 면직했다. ...(중략)... 또한 조서를 내려 황실의 성을 한족의 성인 원(元)씨로 고쳤다.  
- 『이십이사차기』 -

- ① 한국 - 발해가 건국되었다.
- ② 한국 - 과거제를 도입하였다.
- ③ 중국 - 분서갱유를 단행하였다.
- ④ 중국 - 남조와 북조가 대립하였다.
- ⑤ 일본 - 다이카 개신이 단행되었다.


12. (가), (나) 도시에 대한 설명으로 옳은 것은? [3점]

동아시아 각국의 무역 도시



▲ [가]의 외국 상관

[가] 은/는 공행이 설치된 도시이다. 청은 이곳에 설치된 공행을 통해서만 서양과의 무역을 허용하였다.



▲ [나]의 데지마

[나] 은/는 인공 섬인 데지마가 조성된 도시이다. 에도 막부는 데지마에서 네덜란드와 무역을 실시하며 서양 문물을 받아들였다.

- ① (가) - 금릉 기기국이 설치된 곳이다.
- ② (가) - 영국 상인에 의해 신보(申報)가 창간된 곳이다.
- ③ (나) - 국동 국제 군사 재판이 개최된 곳이다.
- ④ (나) - 미·일 수호 통상 조약으로 개항된 곳이다.
- ⑤ (나) - 일본 최초의 일본어 일간지가 발행된 곳이다.

13. 밑줄 친 ‘이 운동’에 대한 설명으로 옳은 것은? [3점]

과리 강화 회의에서 산둥반도에 대한 이권 반환 요구가 거부되었다는 소식은 중국인들에게 큰 충격이었다. 이에 베이징의 대학생들이 항의 시위를 계획하였고, 텐안먼 앞에 결집한 3천여 명의 대학생들 중심으로 이 운동이 시작되었다. 이후 각지의 학생, 지식인뿐만 아니라 상인과 노동자들까지 가담하면서 이 운동은 전국으로 확대되었으며, 결국 베이징 군벌 정부는 베르사유 조약에 대한 조인을 거부하였다.

- ① 아주 화친회의 결성으로 이어졌다.
- ② 일본의 21개조 요구 철회를 주장하였다.
- ③ 흥정 헌법 대강이 공포되는 결과를 가져왔다.
- ④ 청·일 수호 조규가 체결되는 배경이 되었다.
- ⑤ 외국 군대의 베이징 주둔이 허용되는 계기가 되었다.

14. 다음 편지가 작성된 해에 동아시아에서 볼 수 있는 모습으로 가장 적절한 것은? [3점]

○○에게  
잘 지내고 있지? 나는 지금 인천에 와 있어. 인천은 개항 이후 외국인 거주지가 형성되고 서양식 건축물들이 건립되어 도시의 모습이 점차 바뀌고 있어. 올해에는 경인선이 개통되어 인천에서 노량진까지 기차를 타고 갈 수도 있게 되었어. 내일은 한성으로 이동할 예정이야. 다시 편지할게.  
□□로부터

- ① 한국 - 독립신문을 창간하는 서재필
- ② 한국 - 대한국 국제를 공포하는 고종 황제
- ③ 중국 - 잡지 신청년을 발간하는 천두슈
- ④ 일본 - 해체신서를 집필하는 스기타 겐파쿠
- ⑤ 일본 - 요코하마에서 출발하는 이와쿠라 사절단


15. (가), (나) 문서가 공포된 시기 사이에 있었던 사실로 옳은 것은? [3점]

(가) 제1조 천황은 일본국의 상징이자 일본 국민 통합의 상징이며, 이 지위는 주권을 지닌 일본 국민의 총의에 근거한다.  
제9조 ② 육·해·공군 및 그 외 전력을 보유하지 아니한다. 국가의 교전권을 인정하지 아니한다.  
(나) 제1조 연합국은 일본 및 그 영해에 대한 일본 국민의 완전한 주권을 승인한다.  
제14조 연합국은 전쟁 수행 과정에서 발생한 연합국 및 그 국민의 다른 청구권, 그리고 점령에 따른 직접적인 군사적 비용에 관한 청구권을 포기한다.

- ① 4·19 혁명이 일어났다.
- ② 체네바 회담이 개최되었다.
- ③ 중·일 공동 성명이 발표되었다.
- ④ 한·일 기본 조약이 체결되었다.
- ⑤ 중화 인민 공화국이 수립되었다.

16. 밑줄 친 ‘발표’가 있었던 해의 동아시아 상황으로 옳은 것은?

뉴스 속보



미국은 지난 밤 있었던 베트남의 기습 공격에 대한 대응으로 미사일 부대를 급파하고, 북베트남 연안 지역을 폭격할 것이라 발표하였습니다. 이제 전쟁은 작년 8월 톤킨만 사건으로 미국이 개입한 이후 가장 험악한 상황이 되었습니다.

- ① 한국 - 제1차 경제 개발 5개년 계획이 추진되었다.
- ② 중국 - 제2차 국·공 합작이 성립되었다.
- ③ 일본 - 도쿄 올림픽이 개최되었다.
- ④ 베트남 - 도이머이 정책이 채택되었다.
- ⑤ 타이완 - 천수이볜이 총통으로 선출되었다.



17. 밑줄 친 ‘이 막부’ 시기 동아시아 문화에 대한 설명으로 옳지 않은 것은?

초 청 장

가쓰시카 호쿠사이 특별전

우리 박물관에서는 조닌 문화가 발달했던 이 막부 시기에 활동한 가쓰시카 호쿠사이의 작품을 전시합니다. 수준 높은 우키요에 작품들을 관람할 수 있는 이번 특별전에 여러분을 초청합니다.

- 기간: 2021년 7월 ○일 ~ ○일
- 장소: △△ 박물관 특별 전시실
- 대표 전시작

△△ 박물관

- ① 한국 - 한글 소설이 유행하였다.
- ② 중국 - 경극이 공연되었다.
- ③ 중국 - 홍루몽이 인기를 끌었다.
- ④ 일본 - 가부키가 성행하였다.
- ⑤ 일본 - 야요이 문화가 발달하였다.

18. 밑줄 친 ‘이 전쟁’ 중에 있었던 사실로 옳은 것은? [3점]



이곳 야스쿠니 신사에는 일본의 진주만 기습으로 시작된 이 전쟁의 전범들도 합사되어 있습니다. 그런데 일본 정치인들은 최근까지 이곳을 참배하고 있어, 주변국들로부터 비판을 받고 있습니다.

- ① 신간회가 창립되었다.
- ② 조선 의용대가 창설되었다.
- ③ 미드웨이 해전이 발발하였다.
- ④ 루거우차오 사건이 발생하였다.
- ⑤ 제1차 국·공 합작이 성립되었다.

19. (가), (나) 조약이 체결된 시기 사이에 있었던 사실로 옳은 것은?

(가)

제2조 시모다는 즉시 개항하고, 하코다테는 내년 3월부터 개항하는 것으로 한다.

제9조 일본 정부가 외국인에 대하여, 이번에 미국인에게 허가하지 않았던 사항을 허가했을 때에는 미국인에게도 같은 사항을 허가한다.

(나)

제2조 프랑스인과 에스파냐인은 베트남에서 크리스티교를 포교할 수 있으며, 베트남인들도 크리스티교를 믿기 원하면 아무런 제약 없이 그렇게 할 수 있다.

제3조 베트남의 비엔호아, 딘뜨엉, 자딘의 동부 3성은 프랑스에 할양한다.

- ① 한국 - 윤요호 사건이 발생하였다.
- ② 중국 - 베이징 조약이 체결되었다.
- ③ 중국 - 태평천국 운동이 시작되었다.
- ④ 일본 - 메이지 유신이 추진되었다.
- ⑤ 일본 - 대일본 제국 헌법이 반포되었다.

20. 밑줄 친 ‘이 혁명’이 전개된 시기에 있었던 사실로 옳은 것은?

[3점]

자료는 이 혁명 당시 홍위병이 자본주의적이라고 간주된 것들을 파괴하는 모습이 표현된 포스터입니다. 당시 마오쩌둥은 자신의 반대 세력을 제거하기 위해 홍위병을 이용했습니다.



- ① 베트남 공화국이 수립되었다.
- ② 북한에서 합영법이 제정되었다.
- ③ 미·중 공동 성명이 발표되었다.
- ④ 자유당과 일본 민주당이 합당하였다.
- ⑤ 한·중 민족 항일 대동맹이 결성되었다.

\* 확인 사항

○ 답안지의 해당란에 필요한 내용을 정확히 기입(표기)했는지 확인 하시오.