

제 4 교시

사회탐구 영역 (세계지리)

성명

수험 번호

2

제 [] 선택

1. 다음은 여행기의 일부이다. ㉠, ㉡과 관련된 지역화 전략으로 옳은 것은?

9월 30일

네덜란드 암스테르담에 도착하자마자 시티 카드를 구입하였다. 이 카드는 ㉠ 'I amsterdam'이라는 슬로건을 활용하여 관광객을 위해 개발한 상품으로 대중교통뿐만 아니라 여러 관광 명소까지 자유롭게 이용할 수 있어 편리했다. 이 슬로건을 활용한 다양한 관광 상품은 지역의 가치를 높이고 경제를 활성화시키는 데 도움을 주고 있었다.



10월 4일

오늘 축제에 제공된 모든 맥주의 병뚜껑에는 ㉡ 'Münchner Bier'라는 마크가 그려져 있었다. 전통 방식으로 뮌헨 지역에서만 제조한 맥주에 부여되는 마크로, 500년 넘게 이어져 온 뮌헨 맥주에 대한 그들의 자부심을 느낄 수 있었다.



- | | |
|-------------|---------|
| ㉠ | ㉡ |
| ① 지리적 표시제 | 공정 무역 |
| ② 지역 브랜드화 | 공정 무역 |
| ③ 지역 브랜드화 | 지리적 표시제 |
| ④ 생산공정의 표준화 | 지리적 표시제 |
| ⑤ 생산공정의 표준화 | 지역 브랜드화 |

2. 다음은 세계의 대지형 학습을 위한 광산 세우기 게임의 한 장면이다. '광산이 세워진 곳'의 대표적인 대지형에 대한 설명으로 옳은 것만을 <보기>에서 고른 것은? (단, 음영으로 표시된 지역은 고기 조산대, 신기 조산대, 안정육괴 중 하나임.) [3점]





- <보 기>
- ㄱ. 석탄 매장량이 풍부하다.
 ㄴ. 지진과 화산 활동이 빈번하다.
 ㄷ. 고생대에 조산 운동으로 형성되었다.
 ㄹ. 판의 경계에 위치하여 산맥의 해발고도가 높고 험준하다.

- ① ㄱ, ㄴ ② ㄱ, ㄷ ③ ㄴ, ㄷ ④ ㄴ, ㄹ ⑤ ㄷ, ㄹ

3. 다음은 지리 교사가 두 지역을 방문하고 올린 누리 소통망(SNS) 프로필 화면이다. 방문한 (가), (나) 기후 지역에 대한 설명으로 옳은 것은? [3점]

(가)

(나)



- ① (가)는 연 증발량보다 연 강수량이 많다.
 ② (가)는 키가 작은 풀로 이루어진 초원이 나타난다.
 ③ (나)는 벼농사가 활발하게 이루어진다.
 ④ (가)는 (나)보다 주로 고위도에 위치한다.
 ⑤ (가), (나) 모두 최난월 평균 기온이 0℃ 미만이다.

4. 다음 자료의 (가) 지형에 대한 설명으로 옳은 것만을 <보기>에서 고른 것은?

세계 5대 (가)

(가) 은/는 조수 간만의 차가 큰 해안에서 점토, 모래 등의 물질이 조류에 의해 퇴적되어 형성된다. 계속된 간척을 통해 이 지형이 많이 사라졌으나, 현재는 여러 국가에서 이를 보존하기 위해 많은 노력을 기울이고 있다.



- <보 기>
- ㄱ. 산호충의 유해가 퇴적되어 만들어진다.
 ㄴ. 파랑 에너지가 집중되는 곳(串)에 주로 발달한다.
 ㄷ. 밀물 때는 바닷물에 잠기고 썰물 때는 드러난다.
 ㄹ. 다양한 생물의 서식지이며, 오염 물질 정화 기능이 있다.

- ① ㄱ, ㄴ ② ㄱ, ㄷ ③ ㄴ, ㄷ ④ ㄴ, ㄹ ⑤ ㄷ, ㄹ

2 (세계지리)

사회탐구 영역

고 2

5. 다음은 세계지리 서답형 답안지의 일부이다. 학생 답의 ㉠ ~ ㉤ 중 옳게 답한 것만을 고른 것은? [3점]

<서답형 1> 다음은 대기 대순환 모식도이다. A ~ D에 나타나는 현상의 특징을 각각 서술하시오.

학생 답	배점	받은 점수
A에서는 연중 무역풍이 탁월하게 분다. ㉠	2	4점
B에서는 D에서보다 대류성 강수 발생 일수가 적다. ㉡	2	
C에서는 하강 기류가 발달하여 아열대 고압대가 형성된다. ㉢	2	
D에서는 편서풍과 극동풍이 만나 한대 전선이 형성된다. ㉣	2	

- ① ㉠, ㉡ ② ㉠, ㉢ ③ ㉡, ㉣ ④ ㉢, ㉣ ⑤ ㉢, ㉣

6. 밑줄 친 '이 지역'의 기후 특성에 해당하는 그래프로 가장 적절한 것은? [3점]

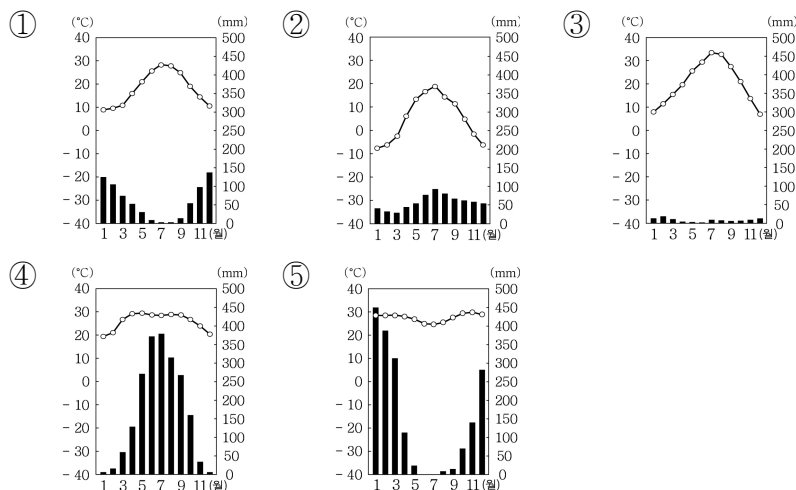
미술 감상 수업

고흐의 생애와 작품 만나기

<아들의 붉은 포도밭>은 고흐의 생전에 판매된 유일한 그림이자 그의 천재성이 절정에 달했을 때 완성된 작품이며, <노란 하늘과 태양의 올리브나무>는 고흐가 아들 인근의 생레미 병원에서 요양하는 동안 주변을 산책하며 남긴 그림이다.

두 그림에 등장하는 포도와 올리브는 토양의 배수가 원활하며, 여름이 고온 건조한 이 지역에서 잘 자란다.

<아들의 붉은 포도밭(1888)> <노란 하늘과 태양의 올리브나무(1889)>



7. 다음 <조건>을 만족하는 국가에 코로나 백신 연구소를 설립하고자 한다. 이에 가장 적합한 국가를 고른 것은?

<조건>

첫째, 코로나 백신 접종을 모두 완료한 인구 비율이 70% 이상인 국가

둘째, 인구 백만 명당 사망자 수 2,500명 미만인 국가

셋째, 정부 대응 엄격성 지수*가 25 미만인 국가

* 정부 대응 엄격성 지수: 0 ~ 100 중 100이 가장 엄격한 대응

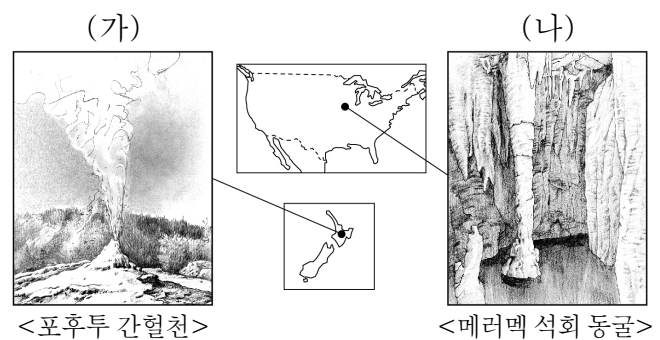
<후보 국가>

<코로나 백신 접종 완료 인구 비율> <인구 백만 명당 사망자 수> <정부 대응 엄격성 지수>

* 숫자가 없는 국가는 2022년 3월 기준 자료가 수집되지 않은 국가임. (OWID)

① 칠레 ② 브라질 ③ 우루과이
④ 에콰도르 ⑤ 아르헨티나

8. (가), (나) 지형에 대한 설명으로 옳은 것만을 <보기>에서 고른 것은? [3점]



- <보 기>
- ㄱ. (가)는 안정육괴에 주로 발달한다.
- ㄴ. (가)에서는 지열에 의해 데워진 지하수가 주기적으로 분출된다.
- ㄷ. (나)의 내부에서는 중유석, 석순, 석주 등을 관찰할 수 있다.
- ㄹ. (가), (나) 모두 지하수의 용식 작용에 의해 형성된다.
- ① ㄱ, ㄴ ② ㄱ, ㄷ ③ ㄴ, ㄷ ④ ㄴ, ㄹ ⑤ ㄷ, ㄹ

9. 다음은 온라인 학습 장면의 일부이다. 답글의 내용이 옳은 학생만을 고른 것은?

교사: 돼지고기를 금기시 하는 이 종교의 신자들에게 허용된 음식을 할랄(halal) 음식이라 합니다. 율법에 따라 도살, 처리가공된 식품에만 할랄 인증 마크를 부여하며, 실제로 사용되는 마크의 사례는 오른쪽과 같습니다.

이 종교의 특징을 답글로 남겨 주세요.

답글(4)

↳ 갑: 민족 종교에 해당합니다.

↳ 을: 하나의 신만을 인정하는 유일신교입니다.

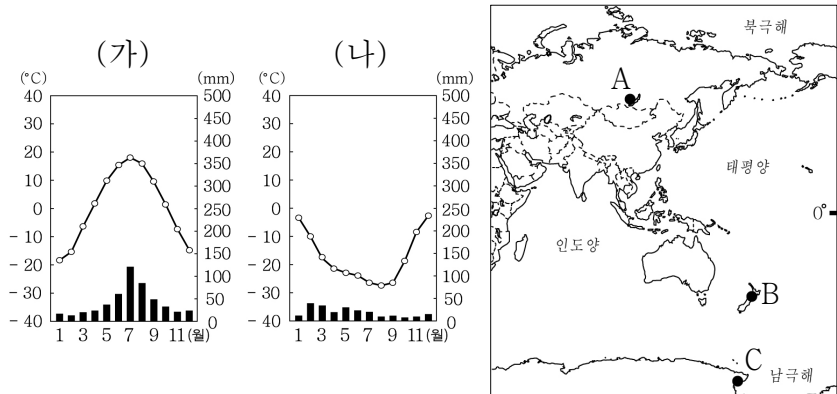
↳ 병: 살생을 금하며 윤회 사상을 중시합니다.

↳ 정: 신자들은 하루에 다섯 번씩 성지를 향해 기도합니다.

<한국의 인증 마크> <유럽의 인증 마크>

- ① 갑, 을 ② 갑, 병 ③ 을, 병 ④ 을, 정 ⑤ 병, 정

10. (가), (나) 그래프가 나타나는 지역을 지도의 A~C에서 고른 것은? [3점]



- (가) (나) (가) (나) (가) (나)
- ① A B ② A C ③ B A
- ④ B C ⑤ C A

11. 자료는 십자말풀이 일부이다. 이에 대한 설명으로 옳지 않은 것은? [3점]

냉·한대 기후 지역에 발달한 지형

<가로 열쇠>

㉠ 토양의 동결과 융해가 반복되어 형성된 다각형의 지형

㉡ 빙하의 후퇴로 빙퇴석이 남아서 형성된 평원

㉢ 계곡 상류에 형성된 반원 모양의 움푹 꺼진 지형

<세로 열쇠>

㉣ 빙하의 침식 작용으로 형성된 U자 모양의 골짜기

㉤ 일 년 내내 녹지 않고 얼어 있는 토양층

			㉠영		
			㉡구		
			동		
	㉢빙	력	토	평	원
	식		층		
㉣권	곡				

- ① ㉠은 '구조토'이다.
- ② ㉡은 유기물이 부족하여 농경에 불리한 편이다.
- ③ ㉢은 빙하의 침식 작용으로 형성된 지형이다.
- ④ ㉣가 바닷물에 잠기면 리아스 해안이 발달한다.
- ⑤ ㉤는 지구 온난화 현상으로 분포 범위가 축소되고 있다.

12. 지도는 어느 기후 지역의 분포를 나타낸 것이다. 이 기후 지역의 특징으로 옳은 것만을 <보기>에서 고른 것은?



<보 기>

ㄱ. 기온의 연교차가 기온의 일교차보다 크다.

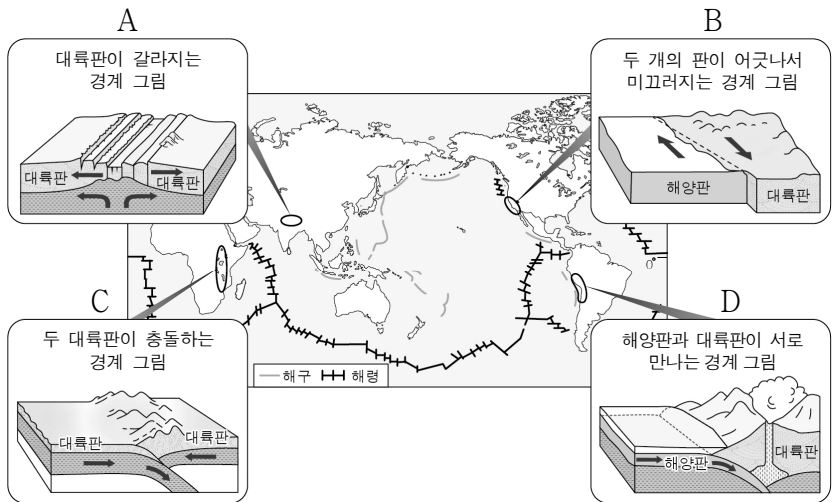
ㄴ. 회백색의 포드졸 토양이 주로 분포한다.

ㄷ. 상록 활엽수가 우거진 숲이 넓게 발달한다.

ㄹ. 연중 적도 수렴대의 영향을 받아 일 년 내내 강수량이 많다.

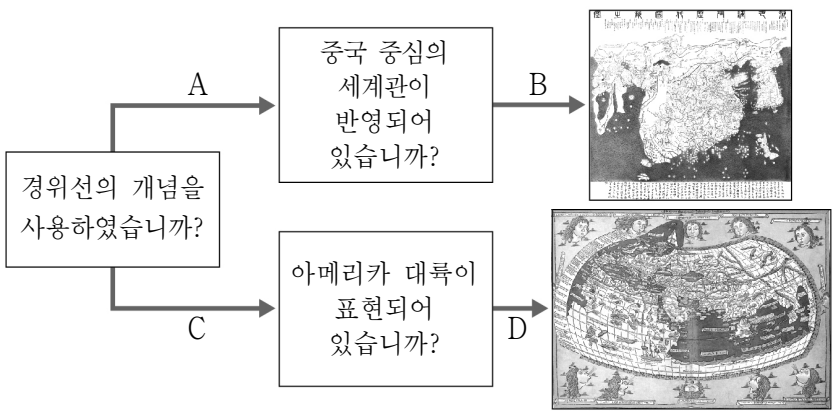
- ① ㄱ, ㄴ ② ㄱ, ㄷ ③ ㄴ, ㄷ ④ ㄴ, ㄹ ⑤ ㄷ, ㄹ

13. 다음은 판의 경계 유형에 관한 자료이다. 그림의 내용과 사례 지역의 위치가 옳게 연결된 것만을 A~D에서 고른 것은?



- ① A, B ② A, C ③ B, C ④ B, D ⑤ C, D

14. 다음 자료는 세계지도의 사례를 찾는 과정이다. A~D에 들어갈 대담으로 옳은 것은? (단, A~D는 '예', '아니요' 중 하나임.)

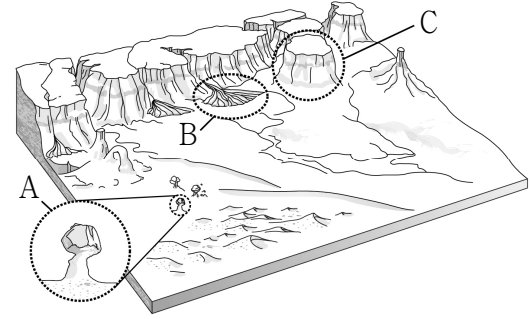


- A B C D
- ① 예 예 아니요 예
- ② 예 아니요 아니요 예
- ③ 아니요 예 예 아니요
- ④ 아니요 아니요 예 예
- ⑤ 아니요 아니요 예 아니요

15. 표의 (가)~(다)에 해당하는 지형을 모식도의 A~C에서 고른 것은?

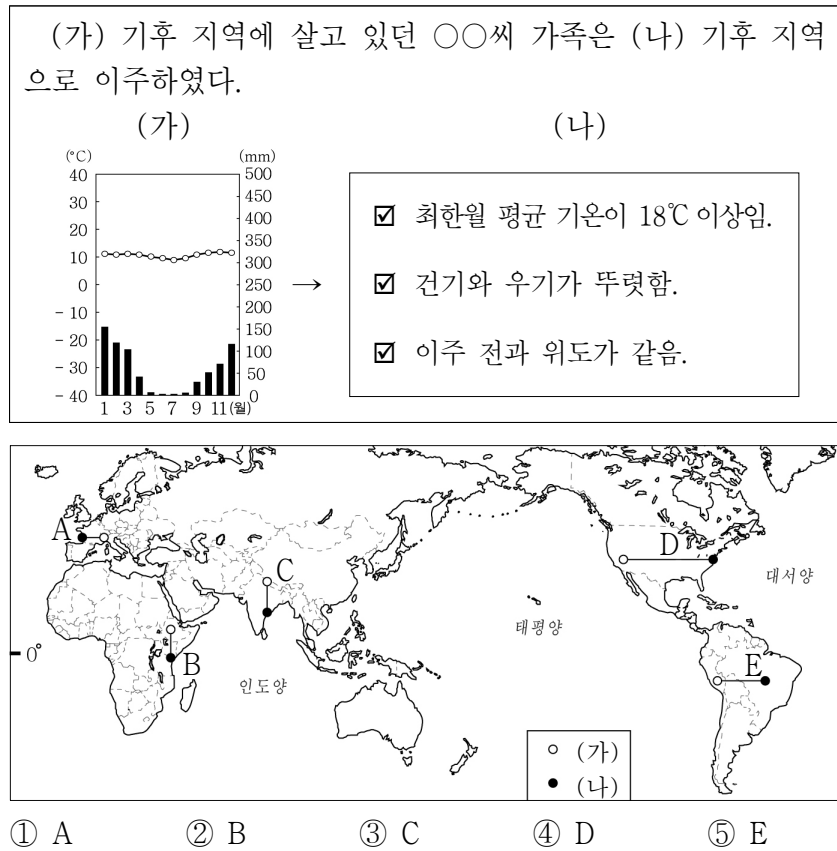
지형	특 징
(가)	바람에 날린 모래가 바위의 아랫부분을 깎아서 형성된 버섯 모양의 바위
(나)	골짜기 입구의 경사 급변점에 하천 운반 물질이 퇴적되어 형성된 지형
(다)	침식에 강한 경암*층이 덮개 역할을 하여 탁자 모양으로 남게 된 지형

* 경암: 단단한 암석



- (가) (나) (다)
- ① A B C
- ② A C B
- ③ B A C
- ④ B C A
- ⑤ C B A

16. 다음 자료를 보고 (가), (나) 기후 지역이 옳게 연결된 선을 지도의 A~E에서 고른 것은? [3점]



17. 다음은 사막에 관한 다큐멘터리 대본의 일부이다. (가), (나) 사막이 위치한 지역을 지도의 A~C에서 고른 것은? [3점]

안개로 덮인 (가) 사막

‘아무것도 없는 땅’이라는 의미를 가진 이 사막은 1년 내내 해안을 따라 흐르는 한류의 영향을 받는다. 해안에서 발생하는 안개는 이 지역 생태계의 수분 공급원이 되어 준다.

사구로 덮인 (나) 사막

‘들어가면 나올 수 없는 곳’이라는 의미를 가진 이 사막은 바다로부터 멀리 떨어져 있어 수분을 공급받기 어렵다. 이 지역에 발달한 다양한 형태의 사구는 예로부터 교통에 큰 장애가 되었다.

	(가)	(나)
①	A	B
②	A	C
③	B	A
④	B	C
⑤	C	B

18. 다음은 세계지리 수업의 한 장면이다. (가), (나)에 들어갈 내용으로 가장 적절한 것은?

교사 : 아래 제시된 그림을 보고 시 스택의 형성 과정을 설명해 볼까요?

학생 : 시 스택은 해식애가 (가)의 (나)에 의해 육지로 후퇴할 때 단단한 암석 부분이 남아 형성된 바위섬이나 돌기둥입니다.

	(가)	(나)
①	빛물	용식
②	파랑	침식
③	파랑	퇴적
④	하천	침식
⑤	하천	퇴적

19. 다음은 퀴즈 쇼의 한 장면이다. (가)에 들어갈 내용으로 가장 적절한 것은? [3점]

문제 : 지도에 표시된 네 도시 중 ‘_____ (가)’라는 공통점이 있는 두 도시를 골라 쓰시오.

갑 을 병

에, 갑 학생이 정답을 맞혔습니다.

파리 ○ 베이징 X 뉴욕 X

- ① 여름에 열대 저기압의 영향을 빈번하게 받는다.
 ② 개방적인 구조의 고상(高床) 가옥이 주로 발달한다.
 ③ 카사바 등을 재배하는 이동식 화전 농업이 활발하다.
 ④ 비슷한 위도의 다른 지역보다 기온의 연교차가 큰 편이다.
 ⑤ 바다에서 불어오는 편서풍의 영향으로 연중 강수량이 고른 편이다.
20. 자료는 방송 프로그램을 소개하는 장면의 일부이다. 밑줄 친 ‘이 종교’의 대표적인 경관으로 옳은 것은?

에스파냐 하숙

ALBERGUE

“방있어요! 방도 있어요!”

산티아고 프랑스 생장 포르투갈 에스파냐

촬영장소 : 에스파냐 산티아고 순례길

- 1993년 유네스코 세계유산으로 지정된 산티아고 순례길은 프랑스에서 출발하여 에스파냐에 이르는 약 800km의 길이다.
- 순례의 목적지인 콤포스텔라 대성당은 이 종교의 대표적 성지로, 예수의 열두 제자 중 한 명인 성 야고보의 무덤이 있는 곳이다.

기획 의도

- 순례길에 위치한 마을에 숙박시설을 마련하여 저렴한 값의 잠자리와 식사 제공을 통해 여행자들의 다양한 모습을 담아 내고자 한다.

- ① 십자가와 종탑
 ② 사리가 봉안된 탑과 불상
 ③ 첨탑과 둥근 지붕이 있는 모스크
 ④ 다양한 신들을 표현한 조각상이 있는 사원
 ⑤ 목욕과 화장(火葬) 등의 종교의식이 행해지는 강가의 가트

* 확인 사항

- 답안지의 해당란에 필요한 내용을 정확히 기입(표기)했는지 확인 하시오.