

제 4 교시

탐구 영역 (통합사회)

성명

수험 번호

1

1. 다음 사례와 관련하여 A~D 관점에서 탐구할 수 있는 적절한 활동만을 <보기>에서 고른 것은?

A. 시간적 관점



B. 공간적 관점

C. 사회적 관점



D. 윤리적 관점

<불꽃 축제 장면 중 일부>

<보 기>

- ㄱ. A - 불꽃 축제 개최에 적합한 최적의 입지 분석하기
 ㄴ. B - 불꽃 축제에 따른 오염 물질의 연도별 배출량 조사하기
 ㄷ. C - 지역 불꽃 축제 활성화를 위한 제도와 정책 찾아보기
 ㄹ. D - 친환경 불꽃 축제로 전환하기 위한 바람직한 시민의식 알아보기

- ① ㄱ, ㄴ ② ㄱ, ㄷ ③ ㄴ, ㄷ ④ ㄴ, ㄹ ⑤ ㄷ, ㄹ

2. 다음 사상가의 입장에서 강조하는 행복한 삶을 위한 자세로 가장 적절한 것은? [3점]

가장 적은 양을 필요로 하는 사람이 사치에 가장 큰 기쁨을 느낀다. 결핍 때문에 생기는 고통이 제거된다면, 단순한 음식도 우리에게 사치스러운 음식과 같은 쾌락을 준다. 그러므로 쾌락은 몸의 고통이나 마음의 혼란으로부터의 자유이다.


- ① 정신적 쾌락보다 육체적 쾌락을 추구해야 한다.
 ② 종교적 절대자인 신의 뜻에 성실히 따라야 한다.
 ③ 욕구 분별과 절제를 통해 검소한 삶을 살아야 한다.
 ④ 이성의 기능을 발휘하여 모든 쾌락을 제거해야 한다.
 ⑤ 모든 욕구를 제거하고 자연의 질서에 순응해야 한다.

3. 다음 신문 기사의 (가)에 들어갈 내용으로 가장 적절한 것은?

○○신문

20XX년 △△월 □□일

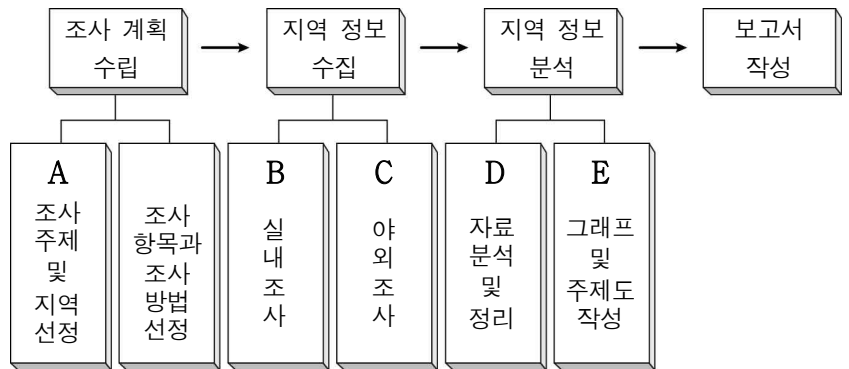
정부, 교통 발달에 따른 (가) 을/를 줄이기 위한 생태 통로 설치 예산 증액 편성



정부는 2024년 생태 통로 관련 예산을 금년에 비해 증액 편성하였다. 생태 통로란 도로 중간에 야생 동물들이 이동할 수 있게 만든 구조물을 말한다. 관련 예산의 증가로 생태 통로 건설이 늘어날 것으로 보인다.

- ① 도시 팽창 ② 공간 불평등
 ③ 생태 서식지 단절 ④ 외래 생물종 전파
 ⑤ 생활 양식의 획일화

4. 다음은 지역 조사 과정을 나타낸 것이다. A~E 단계에 해당하는 활동으로 가장 적절한 것은?



- ① A: 수집한 정보를 항목별로 구분해 중요한 지리 정보를 선별한다.
 ② B: 인터넷을 활용하여 ○○시의 인구 통계 자료를 조사한다.
 ③ C: ○○시의 출생자 수 변화를 통계 지도와 표로 표현한다.
 ④ D: ○○시청 인구정책과를 방문하여 담당자와 면담한다.
 ⑤ E: '○○시의 인구 변화'를 주제로 결정한다.

5. 다음은 여행 상품 안내 포스터의 일부이다. 밑줄 친 ㉠, ㉡의 주된 형성 작용으로 옳은 것은?



신나는 세계 여행



중국 구이린의 보트 투어

중국 남부에 위치한 구이린은 웅장한 ㉠ 탈 카르스트가 병풍처럼 둘러싸고 있는 아름다운 관광지로 유명하다.



노르웨이 송네 피오르 투어

노르웨이의 송네 피오르는 ㉡ U자곡의 가파른 절벽이 장관을 이루는 관광지로 유명하다.

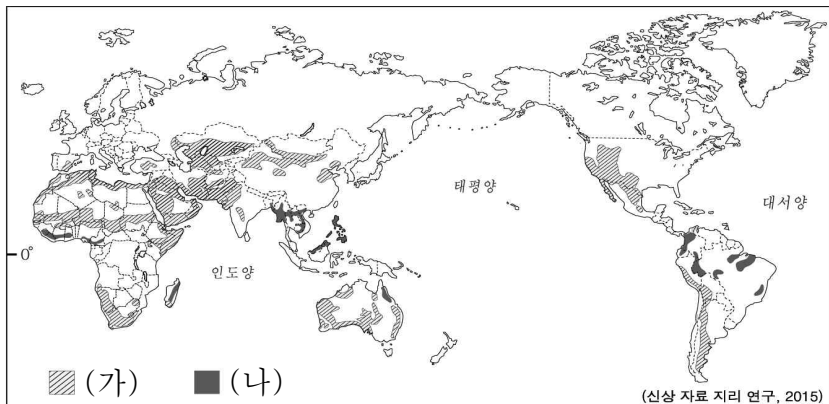
- ㉠

① 빙하의 침식 작용
 ② 빙하의 퇴적 작용
 ③ 하천의 침식 작용
 ④ 석회암의 용식 작용
 ⑤ 석회암의 용식 작용

㉡

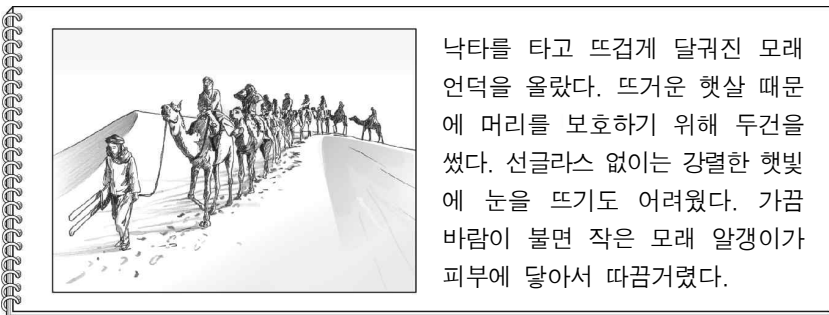
하천의 퇴적 작용
 석회암의 용식 작용
 빙하의 퇴적 작용
 빙하의 침식 작용
 하천의 퇴적 작용

6. 지도는 환경 문제의 분포 지역을 나타낸 것이다. 지도에 표시된 (가), (나) 환경 문제에 대한 설명으로 옳은 것은? (단, (가), (나)는 각각 사막화, 열대림 파괴 중 하나임.) [3점]



- ① (가)는 극심한 가뭄과 인간의 과도한 개발로 나타난다.
- ② (가)는 우리나라에 영향을 미치지 않는 환경 문제이다.
- ③ (나)로 인해 벚꽃의 개화 시기가 늦어진다.
- ④ (나)는 강수량보다 증발량이 많은 지역에서 발생한다.
- ⑤ (가), (나) 모두 북반구에서만 나타나는 현상이다.

7. 다음 자료는 어느 지역 여행 기록의 일부이다. 이 기후 지역의 전통 음식 문화에 대한 설명으로 가장 적절한 것은?



- ① 과일과 채소를 얻기 어려워 날고기를 통해 비타민을 섭취한다.
- ② 음식이 쉽게 상하기 때문에 쌀국수에 향신료를 많이 사용한다.
- ③ 물이 부족하여 오아시스 농업을 통해 재배한 대추야자를 말려 먹는다.
- ④ 토양이 척박하여 이동식 화전 농업을 통해 재배한 카사바를 조리해 먹는다.
- ⑤ 식초와 소금으로 간을 한 쌀밥 위에 날생선을 얹은 초밥을 만들어 먹는다.



8. (가), (나)의 자연관에 대한 설명으로 옳은 것은? [3점]

(가) 인간은 자연의 사용자 및 해석자로서 자연의 질서에 관해 실제로 관찰하고 고찰한 것만큼 무엇인가를 할 수 있다. 인간의 지식이 곧 인간의 힘이다.

(나) 인간은 생명 공동체인 대지의 구성원이다. 인간의 행위가 생명 공동체의 온전성, 안정성, 아름다움에 이바지한다면 옳은 것이며, 그렇지 않다면 그른 것이다.

- ① (가)는 자연을 인간의 이익을 위한 지배 대상으로 본다.
- ② (가)는 자연의 도구적 가치보다 본래적 가치를 중시한다.
- ③ (나)는 인간을 자연과 구별되는 우월한 존재로 본다.
- ④ (나)는 생태계 전체의 보전보다 개별 구성원의 존속을 중시한다.
- ⑤ (가), (나) 모두 자연을 도덕적 고려 대상으로 보아야 함을 강조한다.

9. (가), (나) 지역의 공통점으로 옳은 설명만을 <보기>에서 있는 대로 고른 것은? [3점]



지하의 뜨거운 증기나 지하수를 활용하여 지열 에너지를 생산하고, 온천수를 이용한 관광업이 발달한 지역

베수비오산 폭발로 멸망한 문명의 유적이 발굴된 곳으로 고대 로마의 생활상을 생생하게 보여주는 지역

<보 기>

- ㄱ. 화산 활동이 활발하다.
- ㄴ. 판의 경계부에 위치한다.
- ㄷ. 여름철 백야 현상이 나타난다.
- ㄹ. 연중 강수량이 고르게 나타난다.

- ① ㄱ, ㄴ ② ㄱ, ㄷ ③ ㄷ, ㄹ
- ④ ㄱ, ㄴ, ㄹ ⑤ ㄴ, ㄷ, ㄹ

10. 밑줄 친 ㉠ ~ ㉤에 대한 설명으로 옳지 않은 것은? [3점]

2024

〇〇시 도시 문제 해결을 위한 포럼

1. 일시/장소: 2024. △△. □□. 13시/ 〇〇시민회관

2. 프로그램

1회의장	
순	토의 주제
1	㉠ 개발제한구역(그린벨트) 설정 현황과 보존 방향 모색
2	㉡ 도시 재개발 사업 운영을 위한 과제

2회의장

순	토의 주제
1	㉢ 노후 경유차 감축 조례 제정 방향 논의
2	지역 내 ㉤ 대중교통 이용 현황과 활성화 방안

자유 토론

㉥ 지역 주민들 간의 소통 장려를 위한 시민 활동 모색

- ① ㉠은 도시의 무질서한 팽창을 막기 위한 방안에 해당한다.
- ② ㉡은 도시 기반 시설을 확충하기 위한 방안에 해당한다.
- ③ ㉢은 개인적 차원에서 실행 가능한 방안에 해당한다.
- ④ ㉤은 교통 체증 문제를 해결하기 위한 방안에 해당한다.
- ⑤ ㉥은 공동체의 결속력을 강화하기 위한 방안에 해당한다.

11. 다음은 자연재해에 관한 안전 안내 문자 내용의 일부이다. 이에 대한 옳은 설명만을 <보기>에서 고른 것은? (단, (가)~(다)는 각각 대설, 태풍, 황사 중 하나임.) [3점]

⚠️ ○○지역

(가) 경보 발생, 창문을 닫아 유입 차단, 외출 시 마스크 착용, 실외 활동 가급적 자제, 호흡기 환자 주의

⚠️ △△시

(나) 경보 발생, 출퇴근 시 대중교통 이용, 차량 운행 시 월동 장비 구비 하여 안전 운행, 미끄럼 사고 주의

⚠️ □□시

(다) 접근으로 강풍에 의한 창문 파손 주의, 낙하물 주의, 외출 자제, 야외 활동 중단, 하천 주변 진입 주의

<보 기>

ㄱ. (가)는 대기 중 미세 먼지 농도를 증가시킨다.
ㄴ. (나)에 대비하여 건물의 내진 설계를 실시한다.
ㄷ. (다)는 (가)보다 많은 강수를 동반하는 자연재해이다.
ㄹ. (나), (다) 모두 고위도 지역에서 주로 발생한다.

- ① ㄱ, ㄴ ② ㄱ, ㄷ ③ ㄴ, ㄷ ④ ㄴ, ㄹ ⑤ ㄷ, ㄹ

12. 다음 글을 통해 추론할 수 있는 진정한 행복의 실현 조건으로 가장 적절한 것은?

행복 관련 지수들은 대부분 주거, 소득, 고용, 수명, 교육 등을 행복 실현의 중요한 기준으로 삼는다. 하지만 해당 기준이 충분히 달성된다고 하더라도 스트레스나 상대적 박탈감 등의 요인에 의해 삶에 대해 느끼는 주관적 만족감이 떨어진다면 진정으로 행복한 삶이라고 말하기 어렵다.

- ① 물질적 풍요로움을 유일한 가치로 여겨야 한다.
② 현재의 행복을 희생하여 미래의 행복을 추구해야 한다.
③ 행복을 개인의 주관적 만족감과는 무관한 것으로 여겨야 한다.
④ 행복의 다양한 기준을 통합적으로 고려해 삶의 질을 높여야 한다.
⑤ 내면적 성장과 자아실현보다 외부 환경 개선을 위해 노력해야 한다.

13. 밑줄 친 ‘인민 헌장’에 대한 설명으로 가장 적절한 것은?

영국의 노동자들은 다음과 같은 요구사항을 담은 ‘인민 헌장(1838)’을 작성하였습니다.

21세 이상 모든 남자들의 보통 선거권
무기명 비밀 투표
출마자의 재산 자격 제한 철폐
의원 선거 매년 실시
⋮

교사

- ① 명예 혁명의 배경이 되었다.
② 참정권 확장의 계기가 되었다.
③ 미국 독립 선언의 기초가 되었다.
④ 인권 보장의 국제적 기준을 제시하였다.
⑤ 모든 사회적 차별 철폐를 주요 내용으로 한다.

14. 다음은 교사가 학생에게 쓴 메일의 일부이다. 이에 대한 설명으로 옳은 것은? [3점]

RE: ‘오늘날 새롭게 보장되고 있는 인권’ 발표 자료 보내요.

보낸 사람 교사 <teacher@mail.net>
받는 사람 학생 (1학년 △반 ○○○) <student@mail.net>

메일 잘 받았어요. 그런데 보내준 ㉠‘자료 1~자료 4’ 중에서 1개는 ㉡○○○ 학생이 발표하기로 한 권리와는 ㉢ 다른 권리를 다루고 있습니다. 이 부분만 수정해서 다시 보내주세요.

자료 1 관련 ‘법’ 소개	자료 2 관련 ‘정책’ 소개
제1조(목적) 이 법은 주거 복지 등 주거 정책의 수립·추진 등에 관한 사항을 정하고 ... (중략) ... 국민의 주거 안정과 주거 수준의 향상에 이바지하는 것을 목적으로 한다.	(가)
자료 3 관련 ‘웹툰’ 소개	자료 4 관련 ‘신문 기사’ 소개
집 걱정 없이 살 수 있을까?	○○시에서는 다양한 계층의 아이들이 문화 생활에서 차별을 받지 않도록 ‘꿈의 오케스트라’를 운영하고 있다. 이 음악 프로그램은 1975년 베네수엘라의 불우 청소년들을 위한 ‘엘 시스템아(EI Sistema)’를 모태로 하고 있다.

- ① ㉠에 해당하는 자료는 ‘자료 1’이다.
② ㉡은 각종 위험으로부터 안전을 보호받을 권리이다.
③ ㉢은 ㉡과 달리 인권의 범위가 넓어지면서 등장한 권리이다.
④ ㉣은 ㉢과 달리 대기의 질이 나빠지면서 등장한 권리이다.
⑤ (가)에는 취약 계층에게 임대 주택을 우선 공급하는 정책의 내용이 들어갈 수 있다.

15. 다음은 통합사회 수업 장면의 일부이다. (가)에 대한 옳은 설명만을 <보기>에서 고른 것은?

자연재해 중 (가)의 주요 발생 지점을 표시한 지도입니다.


교사

<보 기>


ㄱ. 적도 부근에서 발생해 중위도 지역으로 이동한다.
ㄴ. 땅이 갈라지고 건축물과 도로 등이 붕괴될 수 있다.
ㄷ. 제방 건설, 산림 조성 등의 대책으로 예방할 수 있다.
ㄹ. 지각판이 충돌하거나 분리되는 지역에서 주로 발생한다.


- ① ㄱ, ㄴ ② ㄱ, ㄷ ③ ㄴ, ㄷ ④ ㄴ, ㄹ ⑤ ㄷ, ㄹ

16. (가)~(다)에 대한 설명으로 옳은 것은? (단, (가)~(다)는 각각 기업, 시민 단체, 정부 중 하나임.) [3점]



교사


환경 문제를 해결하기 위한 다양한 주체들의 노력에는 어떤 것들이 있을까요?


갑



을


(가)는 환경 보호를 위한 제도와 정책을 마련하여 시행하고 있습니다.


갑



을

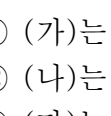
(나)는 생산 활동의 주체로서 청정 기술 개발을 위해 노력하고 있습니다.


을


교사

(다)는 환경 문제를 사회적으로 쟁점화하고, 시민의 참여와 관심을 촉구하고 있습니다.


을


교사

모두 옳게 발표했네요.

- ① (가)는 시민 단체이다.
- ② (나)는 환경 문제 해결을 위한 국제 조약 체결의 주체이다.
- ③ (다)는 이윤 추구를 목적으로 친환경 상품 생산에 힘쓴다.
- ④ (나)는 (가)의 의견을 반영하여 환경 관련 법을 제정한다.
- ⑤ (다)는 (가)의 활동을 감시하고 비판하는 역할을 수행한다.

17. 다음 글을 통해 추론할 수 있는 내용으로 가장 적절한 것은?

백성에게 살아갈 수 있는 일정한 재산이나 생업[恒産]이 없으면 순수하고 변함없는 도덕적인 마음[恒心]을 유지하기 어렵다. 이러한 마음이 없으면 편벽*되고 악해질 것이며 백성의 삶을 불행하게 만들 것이다.

* 편벽(偏僻): 한쪽으로 치우침.

- ① 백성의 도덕적인 마음과 행복은 아무런 관계가 없다.
- ② 백성은 행복한 삶을 위해 물질적 가치를 배제해야 한다.
- ③ 백성의 도덕적인 마음은 경제적 안정을 위한 우선 조건이다.
- ④ 백성의 행복을 위해 국가는 경제 활동에 개입해서는 안 된다.
- ⑤ 백성의 행복을 위해 최소한의 경제적 안정이 보장되어야 한다.

18. 다음은 교사가 수업 시간에 제시한 자료이다. (가)에 들어갈 내용으로 가장 적절한 것은?

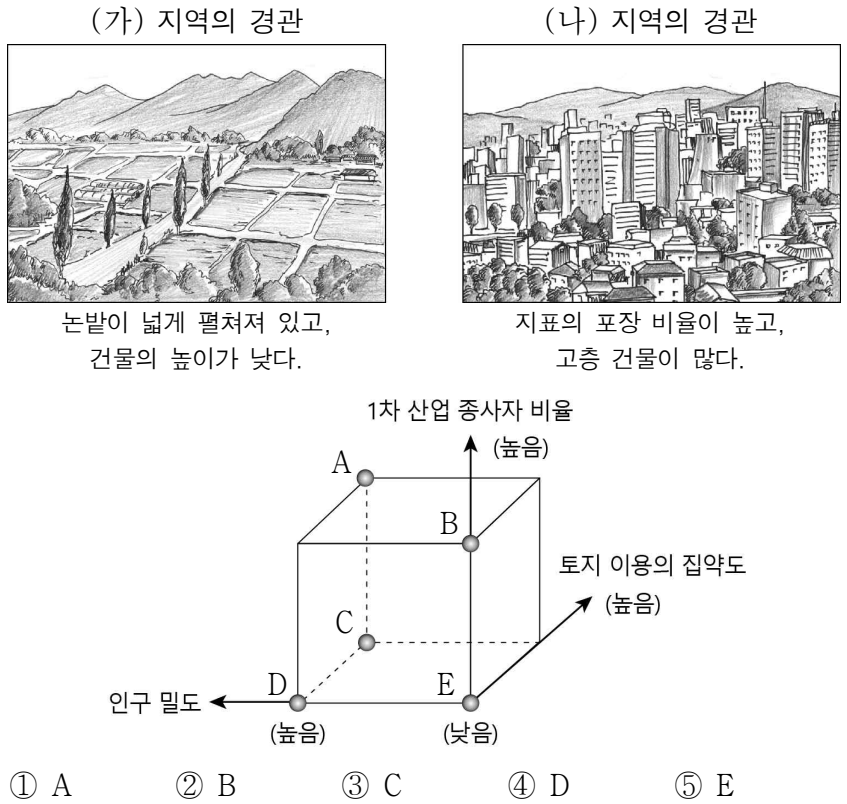
수업 주제: (가) 를 해결하기 위한 사례

○○시는 정보화 취약 계층을 대상으로 정보 통신 기기 활용 교육을 실시할 예정이다. 교육과정은 컴퓨터 및 스마트폰 사용 기초, 인터넷 이용 방법 등으로 이루어져 있다.

정부는 전국 공공장소의 근거리 무선망을 확대 구축하고, 노후 장비를 교체하겠다고 밝혔다. 이에 따라 국민들은 지하철 역, 버스 정류장, 공원, 전통 시장 등의 장소에서 무료로 근거리 무선망을 이용할 수 있게 될 전망이다.

- ① 정보 격차 문제
- ② 사생활 침해 문제
- ③ 저작권 침해 문제
- ④ 인터넷 중독 문제
- ⑤ 허위 정보 유포 문제

19. (가) 지역에 비해 (나) 지역이 지니는 상대적 특징을 그래프의 A~E에서 고른 것은? [3점]



20. 다음 자료에 대한 옳은 분석만을 <보기>에서 고른 것은? [3점]

표는 갑국의 「문화 예술 공연 관람 현황 조사」에서 ‘지난 1년 동안 관람한 문화 예술 공연은 무엇입니까?’라는 항목에 대한 조사 결과이다. 단, 2018년의 도시와 농어촌의 인구수는 같고, 2023년의 도시와 농어촌의 인구수도 같으며, 무응답이나 복수 응답은 없다.

(단위: %)

연도 항목 구분	2018년				2023년			
	영화	뮤지컬	전시회	기타	영화	뮤지컬	전시회	기타
도시	54.1	11.1	11.2	23.6	47.4	10.5	12.1	30.0
농어촌	57.2	3.5	4.6	34.7	58.5	4.6	5.1	31.8

<보 기>

- ㄱ. ‘전시회’에 응답한 관람자 비율은 2018년에 비해 2023년에 증가하였다.
- ㄴ. 농어촌 지역에서 ‘뮤지컬’에 응답한 관람자 수는 2018년에 비해 2023년에 증가하였다.
- ㄷ. 2023년에 ‘기타’에 응답한 도시 지역의 관람자 수에 비해 ‘영화’에 응답한 농어촌 지역의 관람자 수가 더 많다.
- ㄹ. 2018년에 ‘전시회’에 응답한 농어촌 지역의 관람자 수와 2023년에 ‘뮤지컬’에 응답한 농어촌 지역의 관람자 수는 같다.

- ① ㄱ, ㄴ
- ② ㄱ, ㄷ
- ③ ㄴ, ㄷ
- ④ ㄴ, ㄹ
- ⑤ ㄷ, ㄹ

* 확인 사항

- 답안지의 해당란에 필요한 내용을 정확히 기입(표기)했는지 확인 하시오.